

UNIDAD 6. REGISTRO DE TRANSACCIONES FINANCIERAS

EXAMEN PARCIAL

Anota la opción correcta:

____ 1. El principio *periodo contable* indica que:

- | | |
|--|---|
| a) La elaboración de los estados financieros debe informar sobre los resultados obtenidos después de haber confrontado los gastos, costos e ingresos | c) La elaboración de los estados financieros debe contener información financiera de un mes, después de haber conocido los resultados |
| b) La necesidad de conocer los resultados de operación y la situación financiera obligan a dividir su vida en periodos de tiempo convencionales | d) La elaboración de los estados financieros debe informar sobre los resultados obtenidos después de haber confrontado los bienes, valores, derechos y obligaciones de un año |

____ 2. El número de cuentas para que se realice el registro contable de una entidad, depende:

- | | |
|--|--|
| a) De los productos que se venden y pasivos que tengan | c) De la clase y número de operaciones que se efectúen |
| b) Del número de trabajadores y de los productos que se venden | d) De los pasivos que se tengan y del número de los trabajadores |

____ 3. Impuesto al valor agregado (IVA) que causa las ventas:

- | | |
|----------------|-------------|
| a) Traslado | c) Total |
| b) Acreditable | d) Contable |

____ 4. Impuesto al valor agregado (IVA) que causan las compras:

- | | |
|----------------|-------------|
| a) Traslado | c) Total |
| b) Acreditable | d) Contable |

_____ 5. Son cuentas que se utilizan para el registro de las operaciones en el sistema de inventarios perpetuos:

- a) Las compras y devoluciones sobre ventas
- b) El costo de ventas e inventario
- c) El costo de ventas, almacén y ventas
- d) Las devoluciones sobre compras y caja

_____ 6. Valor que queda registrado en el almacén al utilizar el método de valuación primeras entradas primeras salidas (PEPS):

- a) Histórico
- b) Real
- c) Promedio
- d) Desconocido

_____ 7. Valor que queda registrado en el almacén cuando se utiliza el método de valuación últimas entradas primeras salidas (UEPS):

- a) Real
- b) Promedio
- c) Histórico
- d) Desconocido

_____ 8. Una venta se considera realizada cuando:

- a) Se efectúa su pago
- b) Se cobra su importe
- c) Se factura
- d) Se entrega la mercancía

_____ 9. El principio de comparabilidad indica que la información contable debe obtenerse aplicando:

- a) Diferentes criterios de cuantificación y clasificación
- b) Los mismos criterios de cuantificación y clasificación
- c) Los criterios que el ente establezca previamente
- d) Los criterios que el gobierno tenga establecidos

Indica si las siguientes aseveraciones son verdaderas (V) o falsas (F):

_____ 10. El impuesto al valor agregado (IVA) se causa sobre la prestación de servicios independientes y la enajenación (venta) de bienes.

_____ 11. Se entiende por IVA trasladado el cobro o cargo que el contribuyente debe hacer a las personas que adquieran bienes y servicios para uso temporal.

- ___ 12. El IVA se registra en la cuenta de ventas.
- ___ 13. Para todas la cuentas se necesitan auxiliares.
- ___ 14. Son métodos de valuación de inventarios el analítico o pormenorizado y los inventarios perpetuos.
- ___ 15. El sistema analítico o pormenorizado consiste en abrir una cuenta especial en el libro mayor, para cada uno de los conceptos que forman el movimiento de las transacciones de la compraventa de mercancías

16. Registra las siguientes operaciones por el sistema de inventarios perpetuos

Junio

1. Se constituye la empresa "*Costos y Precios, S.A. de C.V.*", cuyo giro será la compra y la venta de artículos de plastipiel. Los socios aportan \$90,000.00 en efectivo y la siguiente mercancía:

Artículo 1	20 unidades a \$10.00 c/u
Artículo 2	30 unidades a \$20.00 c/u
Artículo 3	25 unidades a \$50.00 c/u

2. Se compra mercancía a "*Plásticos, S.A.*" a crédito, como sigue:

Artículo 1	30 unidades a \$11.00 c/u
Artículo 2	40 unidades a \$22.00 c/u
Artículo 3	20 unidades a \$60.00 c/u

3. Se venden mercancías a "*Papelera, S.A.*" en efectivo, como sigue:

Artículo 1	40 unidades a \$25.00 c/u
Artículo 2	60 unidades a \$50.00 c/u
Artículo 3	30 unidades a \$120.00 c/u

4. Entregamos a “*Vinipiel, S.A.*” un cheque por \$3,000.00 como anticipo para la próxima compra de mercancías.

5. Se compra mercancía a “*Vinipiel, S.A.*” , como sigue:

Artículo 1	30 unidades a \$15.00 c/u
Artículo 2	35 unidades a \$25.00 c/u
Artículo 3	20 unidades a \$65.00 c/u

La diferencia, tomando en cuenta el anticipo de \$3,000.00 se paga en efectivo.

6. “*Lumen, S.A.*” , entrega un anticipo de \$3,000.00 para su próxima compra.

7. Se paga luz y teléfono por \$1,000.00.

8. Se vende mercancía a “*Lumen, S.A.*” como sigue:

Artículo 1	35 unidades a \$30.00 c/u
Artículo 2	40 unidades a \$60.00 c/u
Artículo 3	30 unidades a \$130.00 c/u

La diferencia, tomando en cuenta el anticipo, se cobra en efectivo.

9. Se paga la nómina del mes, que asciende a \$8,000.00; el 50% se destina al área de ventas y el 50% a administración. Se retienen impuestos por \$1,000.00


SE PIDE QUE:

- Resuelvas el ejercicio por el sistema de inventarios perpetuos, para el control de las mercancías. (Utiliza la papelería necesaria).
- Utilices auxiliares de almacén.
- Utilices el método de valuación primeras entradas primeras salidas (PEPS), últimas entradas primeras salidas (UEPS) o precios promedio (PP). Como se trata de un examen, tu asesor te indicará el método de valuación a emplear.
- Registres las operaciones en asientos de diario y esquemas de mayor.
- Determine la balanza de comprobación.
- Elabore el estado de resultados y el balance general.


Auxiliar de bancos

--

Auxiliar de clientes

A large, empty rectangular box with a black border, occupying most of the page below the header. It is currently blank, serving as a placeholder for content.


Auxiliar de almacén




Tarjeta de almacén (PEPS)

A large, empty rectangular box with a black border, intended for a warehouse card (PEPS). The box is oriented vertically and occupies most of the page below the title.

Esquemas de mayor



Esquemas de mayor



Esquemas de mayor

